


Вторая Олимпиада, 14.01.2018

1 класс


1. Какие две снежинки надо поменять местами, чтобы они расположились в порядке убывания размера (от БОльшей к мЕньшей). Обведите их.



2. Проведите ровно две прямые линии так, чтобы они разрезали ёлку на 8 кусочков.



3. Разделите фигуру по сторонам клеток на две одинаковые по форме и размеру части.



4. На Новый Год Лиза получила подарков больше, чем Оксана, но меньше, чем Ника. Ника и Юля получили подарков поровну. Каждая девочка что-то получила. Всего подарков у них 9. Сколько подарков получила каждая девочка?


Лиза _____, Оксана _____, Ника _____, Юля _____.

5. В мешке лежат синие, красные и зеленые фигуры разной формы: круги, квадраты, треугольники. Вероника достала из мешка три фигуры и разложила их на столе. Все фигуры оказались и разной формы, и разного цвета. Треугольник лежит между синей фигурой и квадратом. Какого цвета круг?

6. Мальчики построились на физкультуру.

- Антон носит шорты в горошек;
- Боря не с краю;
- Вася не в очках;
- Гога носит шорты в горошек;
- Боря не самый высокий, но выше Гоги.

Подпишите имена мальчиков.



7. Ореховых конфет больше, чем шоколадных на столько же, на сколько шоколадных и мармеладных вместе больше, чем ореховых. Шоколадных конфет меньше, чем ореховых на 3 штуки. Сколько мармеладных конфет?

8. Соедини все точки 4 прямыми отрезками, не отрывая карандаша от бумаги.

