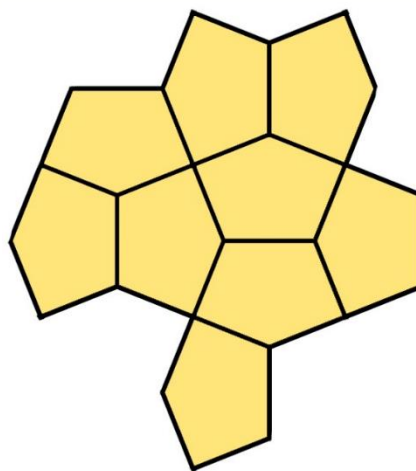




1. Раздели фигуру по линиям сетки на три одинаковые фигуры.



2. Вася делал гербарий из листьев. Между всеми страницами книги он положил по одному листику. Всего поместилось 9 листьев.

Сколько страниц в книге?

(Между страницами и обложкой листья Вася не клал)



3. Продолжи последовательность:


1 2 4 7 ...

4. Раздели рисунок на два одинаковых рисунка по границам ящериц




5. Чего в России больше: кошек или зубных щёток?
Ответ объясни

6. Перед вами три фигуры.
Сколько ячеек будет в пятой фигуре, если продолжить последовательность.



7. На пол упали одинаковые фигурки. Обведи фигурку, которая упала не той стороной, как все остальные.



8. В слове СИСТЕМАТИКА каждую букву заменили цифрой. Между всеми цифрами поставили знаки либо "+" либо "-".
Может ли в результате получиться ноль?